


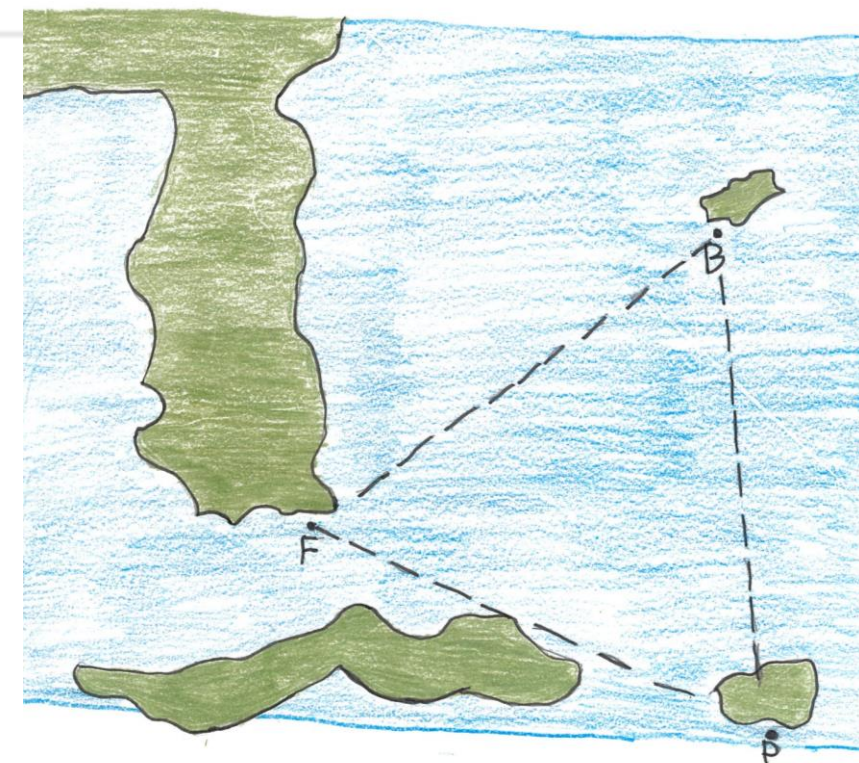
Retire o clipe para ver a  
questão



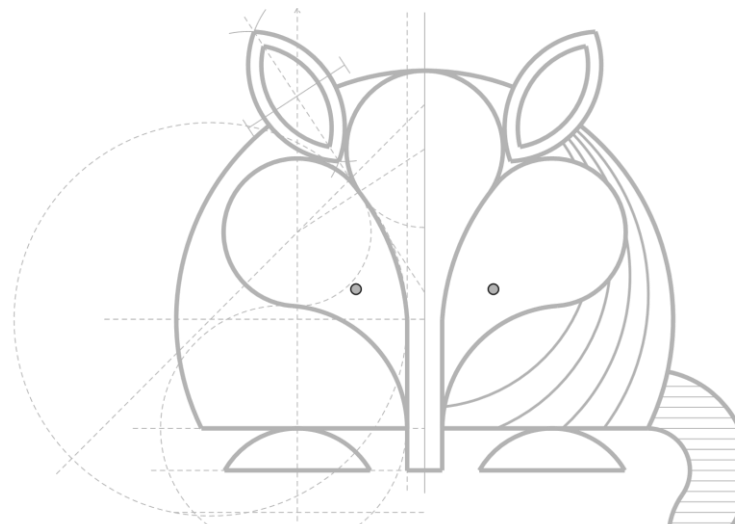
# Carta-questão



Ocorreu um naufrágio na região do Triângulo das Bermudas. Antes do acidente, ao sentir-se em perigo, o copiloto enviou sinais de socorro com as seguintes coordenadas: o ponto de naufrágio (ponto N), é equidistante da Flórida (ponto F) e de Bermudas (ponto B). Além disso, sabe-se que o ponto N dista 4,5 cm de Porto Rico (ponto P). Descubra onde o naufrágio ocorreu:



Retire o clipe para ver o  
gabarito



Ocorreu um naufrágio na região do Triângulo das Bermudas. Antes do acidente, ao sentir-se em perigo, o copiloto enviou sinais de socorro com as seguintes coordenadas: o ponto de naufrágio (ponto N), é equidistante da Flórida (ponto F) e de Bermudas (ponto B). Além disso, sabe-se que o ponto N dista 4,5 cm de Porto Rico (ponto P). Descubra onde o naufrágio ocorreu:

